

Náttúra og tækni

60 minuttir



Myndatøka: Sólgerð Andreassen

Navn:	Flokkur:
Skúli:	Lærari:

Svarini verða skrivað á uppgávuarkið. Um tað er onkur uppgáva, sum tú ikki dugir, far so víðari.

Tú kanst skriva við blýanti.

Mannakroppurinn

1. Set kross við rætt svar.

a) Tá ið vit svølgja matin, fer hann niður í magan.
Hvat hendir í maganum?

Maturin verður malin sundur

Maturin fer út í blóðið

Maturin verður sorteraður

b) Hvat hendir í tarmunum?

Maturin verður reinsaður

Føðsluevni verða tikin úr

Tað hendir einki

c) Hvat brúkar kroppurinn føðsluevni til?

At uppbyggja kroppin við

At reinsa kroppin við

So vit fáa anda

d) Hvat er arbeiðið hjá hjartanum?

At uppbyggja kroppin

At reinsa kroppin

At pumpa blóðið runt í kroppinum

e) Hví fæla vit pulsinn?

Tí luft kemur í lungunni

Tí vit eru svong

Tí hjartað pumpar

f) Hvussu nógv rúm eru í hjartanum?

Tvey

Seks

Fýra

g) Hvussu nógv tímar skulu 12 ára gomul børn helst sova um samdøgrið?

6 - 7

12 - 13

9 - 10

h) Í hvørjum mati eru flest vitaminir?

Kipsi

Gularót

Spaghetti

Plantur

2. Set kross við rætt svar.

a) Hvør av hesum plantum eitur mýrisólja?



b) Hvør av hesum plantum er summardái?



c) Hvør av hesum plantum er sjógras?



Fuglar

3. Set kross við rætt svar.

a) Hvør av hesum fuglum kann sita á greinum?

- | | |
|---------|--------------------------|
| Tjaldur | <input type="checkbox"/> |
| Dunna | <input type="checkbox"/> |
| Stari | <input type="checkbox"/> |

b) Fjaðurnetið er læst sum karðalás, hví?

- | | |
|------------------------|--------------------------|
| So fuglurin er snøggur | <input type="checkbox"/> |
| Tað heldur olju burtur | <input type="checkbox"/> |
| Tað verjir móti vætu | <input type="checkbox"/> |

c) Hvør av hesum fuglum kann flúgva?

- | | |
|----------|--------------------------|
| Strutsur | <input type="checkbox"/> |
| Skarvur | <input type="checkbox"/> |
| Pingvin | <input type="checkbox"/> |

d) Hvør av hesum fuglum flýgur tað mesta av lívi sínum?

- | | |
|---------|--------------------------|
| Tjaldur | <input type="checkbox"/> |
| Terna | <input type="checkbox"/> |
| Kráka | <input type="checkbox"/> |

e) Hvat hendir, tá ið fuglur verður dálkaður av olju?

- | | |
|-------------------------------|--------------------------|
| Hann reinsar tað burtur aftur | <input type="checkbox"/> |
| Hann skiftir fjarðar | <input type="checkbox"/> |
| Vatn rínir við hann | <input type="checkbox"/> |

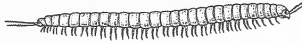
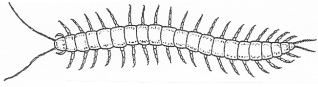
f) Hvussu gamal verður havhestur?

- | | |
|-------|--------------------------|
| 15 ár | <input type="checkbox"/> |
| 30 ár | <input type="checkbox"/> |
| 50 ár | <input type="checkbox"/> |

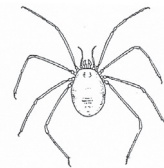
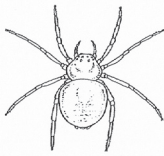
Dýr

4. Set kross við rætt svar.

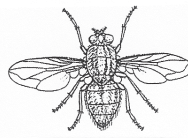
a) Hvat av hesum dýrum er skolipendari?





b) Hvat av hesum dýrum er torvatrøll?



c) Hvat av hesum dýrum er skinnfluga?



d) Hvat av hesum dýrum er jákupskel?



e) Hvat av hesum dýrum er agngágga?



Fiskar

5. Set kross við rætt svar.

a) Hvør av hesum fiskum er botnfiskur?

- Sild
- Havmús
- Seiður

b) Hvat eta uppsjóvarfiskar?

- Igulker
- Sandmaðkar
- Æti



c) Hví hava nakrir fiskar undirbit?

- Teir eta æti uppi í sjónum
- Tað hevur ongan týdning
- Teir eta botndýr

d) Hvør av hesum fiskum er sild?




e) Hvør av hesum fiskum er toskur?



Evnafræði

6. Hvat evni vísir myndin?



Gull

Vatn

Ilt (oxygen)

Jarn

Vatn


7. Ein grýta við saltvatni stendur úti á og kókar. At enda er allt vatnið kókað burtur. Hvat er eftir í grýtuni?

Einki

Sjógvur

Pipar

Salt



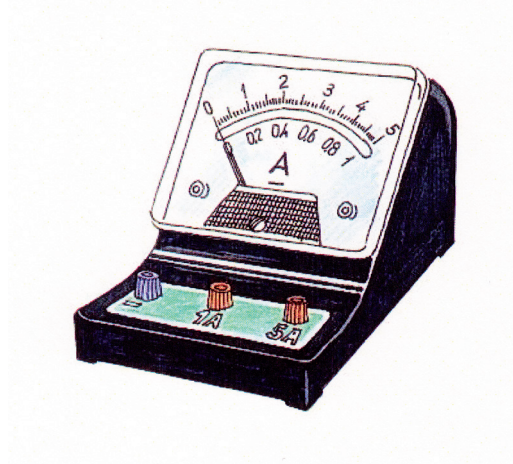
Ellæra

8. a) Hvat merkir **A**?

Spenningsmunur

Steymstyrki

Mótstöða



b) Vit hava lært um tvey sløg av el, hvørji?

Javnstreymur

Fólkastreymur

Havstreymur

Skiftistreymur

Heimsatlas

9. 1. Hvussu eita hesar oyggjarnar?

32 BC 3	<input type="text"/>	<input type="text"/>	<input type="text"/>	<input type="text"/>	<input type="text"/>	<input type="text"/>	<input type="text"/>	<input type="text"/>
32 C 3	<input type="text"/>	<input type="text"/>	<input type="text"/>	<input type="text"/>	<input type="text"/>	<input type="text"/>	<input type="text"/>	<input type="text"/>
32 C 4	<input type="text"/>	<input type="text"/>	<input type="text"/>	<input type="text"/>	<input type="text"/>	<input type="text"/>	<input type="text"/>	<input type="text"/>
32 C 4	<input type="text"/>	<input type="text"/>	<input type="text"/>	<input type="text"/>	<input type="text"/>	<input type="text"/>	<input type="text"/>	<input type="text"/>

2. a. Liggur Ísland eystanfyri ella vestanfyri Føroyar? _____
- b. Hvørjum heimshavi liggja Føroyar í? _____
- c. Hvussu djúpt er Svartahavið (síðu 29)

1405 m	<input type="checkbox"/>
2244 m	<input type="checkbox"/>
3122 m	<input type="checkbox"/>

3. Hvussu eitur heiti havstreymurin, sum kemur til okkara sunnanífrá?

Golfstreymurin	<input type="checkbox"/>
Vendistreymurin	<input type="checkbox"/>
Atlasstreymurin	<input type="checkbox"/>

Jarðfrøði

10. 1. Nevn trý brennievni, sum vit fáa úr jørðini.

1. _____

2. _____

3. _____

2. Hvar eru eldgos framvegis virkin?

í Grønlandi

í Føroyum

í Íslandi

3. Hvar er jørðin heitast?

í kjarnuni

í kápuni

í skorpuni

4. Nær endaði seinasta ístíðin?

Fyri 10000 árum síðani

Fyri 20000 árum síðani

Fyri 100 árum síðani



Føroyaprent