

Náttúra og tækni

45 minuttir



Nýfolað fyl. Mynd frá www.skulin.fo. John Berg tók myndina.

Navn: _____	Flokkur: _____
Skúli: _____	Lærari: _____

Svarini verða skrivað á uppgávuarkið. Um tað er ein uppgáva, sum tú ikki dugir, far so víðari. Tú kanst skriva við blýanti.

2.

Norðurlond

Set striku frá hövuðsstaði til flagg.

Helsinki



Stockholm



Oslo




Nuuk



Mariehamn



Reykjavík



3.

Fuglar

Set striku ímillum fugl og rætta navnið.



Kráka



Stari



Tjaldur



Spógvi



Ravnur



Likka

Myndir úr: "Fuglar í Føroyum".

4.

Plantur

Set striku ímillum blómu og rætta navnið.



Mýrisólja



Blákollur



Summardái



Sjógras



Reyðakkuleya

5.

Fiskar


Set striku ímillum fisk og rætta navnið.



Hýsa



Kalvi



Havtaska



Toskur



Sild

6.


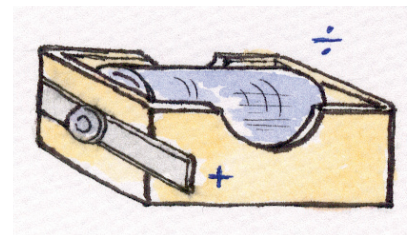


Vatn og luft

Set X í rútin, har vatnið er salt.



Tekning: Sólgerð Andreassen.

7.



Set leiðningar ímillum, so perurnar lýsa og klokkann ringir.

Tekningar: Sólgerð Andreassen.

8.

Nær síggja vit ælabogan?

Set x við rætt svar.



Mynd úr bókini "Náttúra og Tøkni 3", Føroya Skúlabókagrunnur.

Tá tað regnar

Tá sólin skínur

Tá tað er sól og regn

9.

Sansar


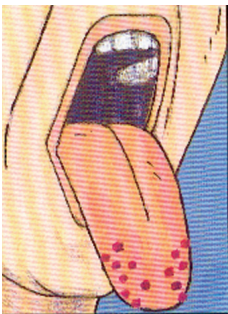
Set striku millum tekst og mynd.

Súrt

Søtt

Salt

Beiskt



Myndir úr bókini "Náttúra og Tøkni 1", Føroya Skúlabókagrunnur.

Tekna pílur í myndina, sum vísa hvønn veg vit lukta.



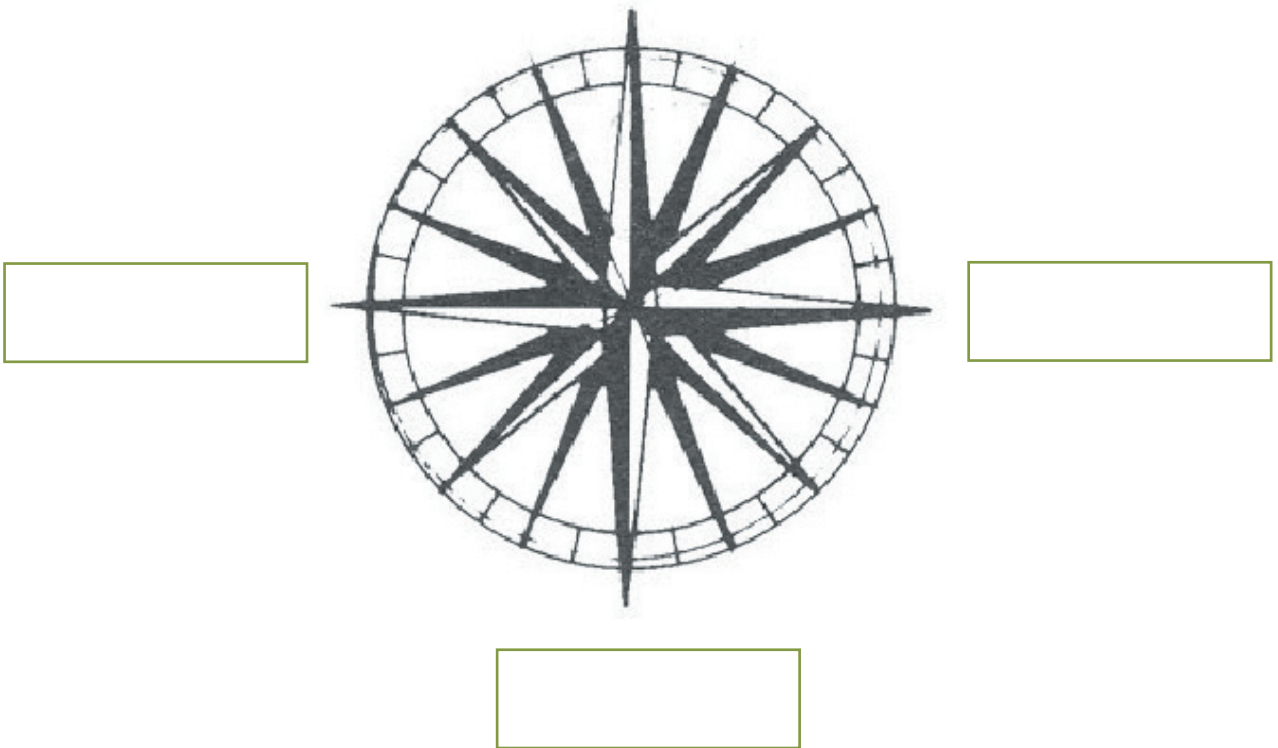
Tekning: Sólgerð Andreassen.

10.

Ættirnar

Hvussu eita ættirnar. Set nøvn í kassarnar.

Norður

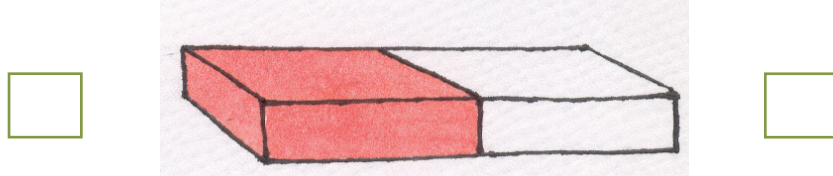


Mynd úr: "Náttúra og tøkni 1", Føroya Skúlabókagrunnur.

11.

Magnetir

1) Set N við norðpól og S við suðarpól.

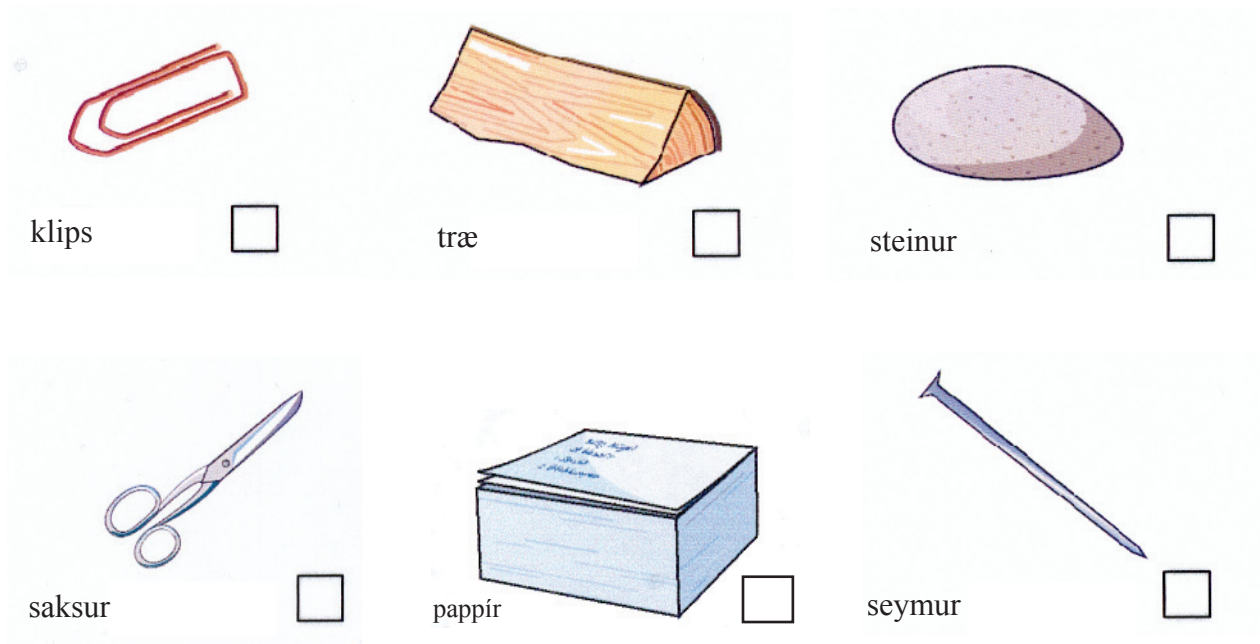


2) Her eru 2 jarnpetti. Set kross við magnetina.



Mynd úr: "Náttúra og tækni 1", Føroya Skúlabókagrunnur.

3) Hvat kann ein magnet brúkast til. Nevn minst tvey dømi. _____



Tekningar: Sólgerð Andreassen.

