

Náttúra og tøkni

60 minuttir



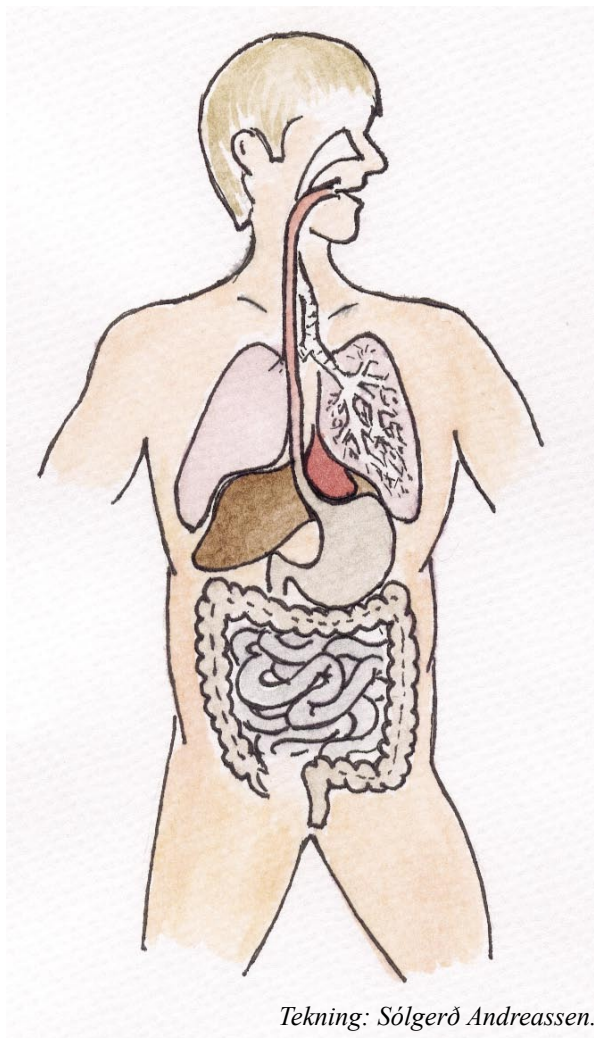
Mynd: skulin.fo

Navn: _____	Flokkur: _____
Skúli: _____	Lærari: _____

Svarini verða skrivað á uppgávuarkíð. Um tað er ein uppgáva, sum tú ikki dugir, far so víðari. Tú kanst skriva við blýanti.

1. Mannakroppurinn

Set striku til røttu gøgnini.



Magi

Hjarta

Lunga

2. Hvørt av hesum gøgnum hevur sína uppgávu. Greið frá, hvørja uppgávu hesi hava.

a. Magi _____

b. Hjarta _____

c. Lunga _____

3.

Morgunmatur

Ein góður og sunnur morgunmatur hevur týðning fyri restina av degnum.
Set ring um fyra matvørur, sum eru góðar.



Tekning: Sólgerð Andreassen.

4.

Plantur



a. Hvørja uppgávu hevur rótin?

b. Hvørja uppgávu hevur blaðið?

5. Hvat er neyðugt fyri at plantur kunnu liva?

a.

b.

d.

ð.

6. Skriva navnið á hesum plantum.



1. _____



2. _____



3. _____



4. _____



5. Hvussu eitur sóljan, sum er okkara tjóðarblóma?

Myndir: Sólgerð Andreassen.

7.

Fiskivinna

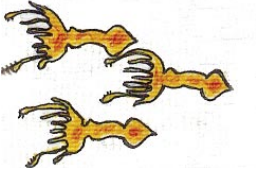
a. Nevn 3 sløg av reiðskapi, sum føroyingar veiða fisk við.

b. Nevn 1 fiskaslag, sum føroyingar ala. _____

c. Hvat verður ídnaðarfiskur gjørdur til?

Set navn á :

d.



e.



f.



g.



h.



i.



j. Nevn 5 skeljadyr:

k. Set striku frá navni til rætt stað á toskinum.

ryggfjarðar

stertur

strikan

gotfjarðar



búkfjarðar

uggafjødur

grunnøs

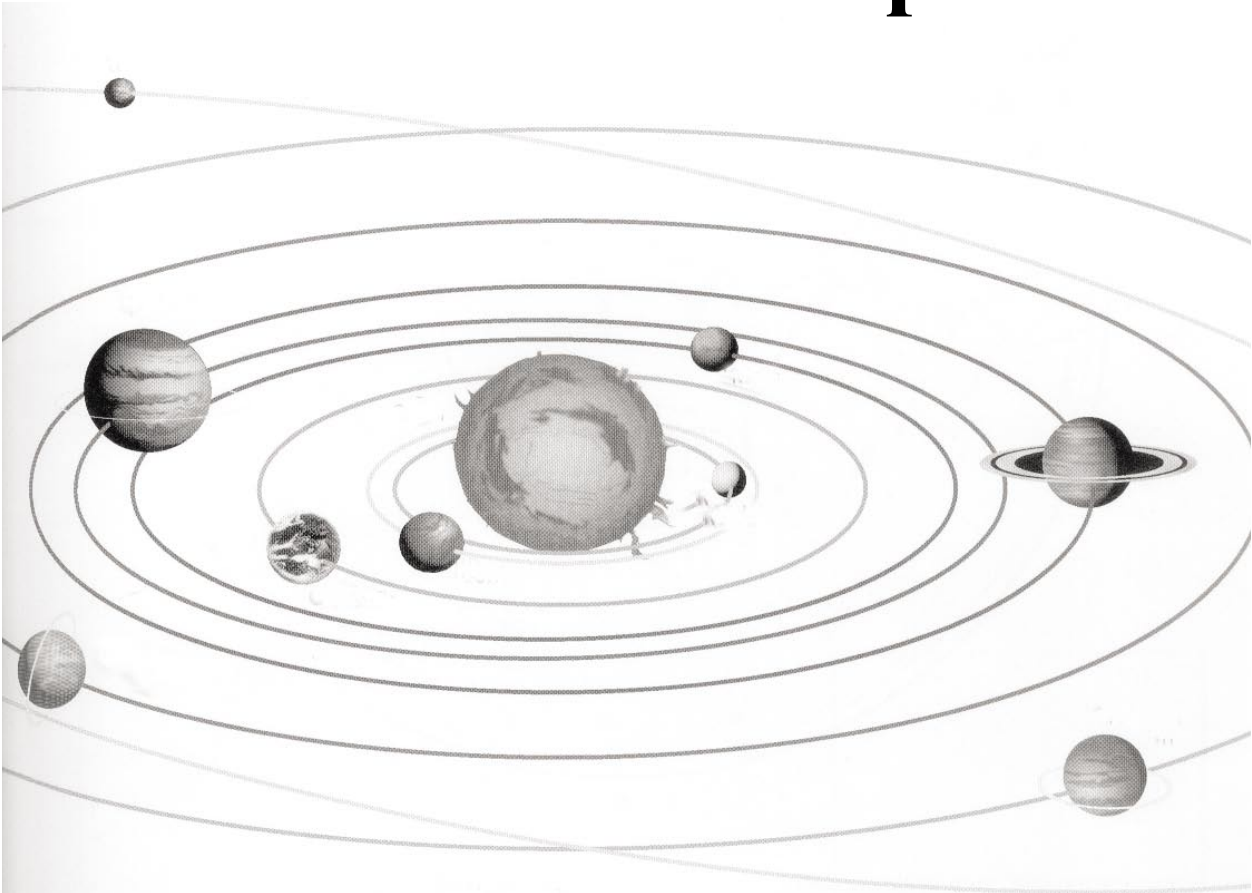
eyga

l. Hvær sansur er strikan eftir miðjuni á toskinum?

Mynd úr: "Náttúra og tøkni 3", Føroya Skúlabókagrunnur.

8.

Okkara sólarskipan



1. Skriva növnini á teimum 9 gongustjörnunum á strikurnar.

2.

a. Hvussu langa tíð tekur tað mánanum at koma einaferð kring jørðina?

b. Hvussu langa tíð tekur tað jørðini at mala einaferð um sólina?

c. Hvussu langa tíð tekur tað jørðini at mala einaferð um seg sjálva?

9.

Basaltfláir



Hvussu verða basaltfláirnar nevndar?

1. _____

2. _____

3. _____

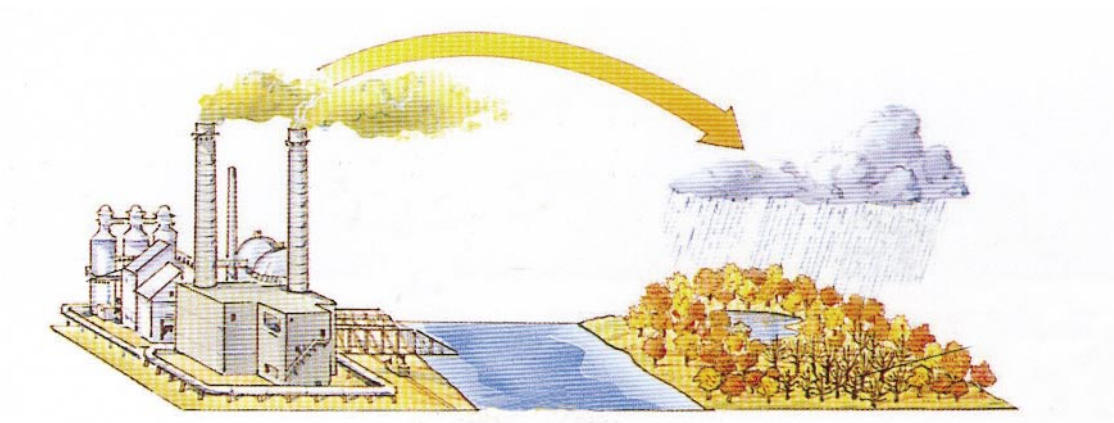
4. Ímillum hvørjar fláir er kolalindin?

5. Hvar í Føroyum verður kol høgt?

6. Hvat verður kol brúkt til?

Mynd úr: "Náttúra og tøkni 3", Føroya Skúlabókagrunnur.

10.



Nevn 3 brennievni, sum vit fáa úr jørðini.

1. _____

2. _____

3. _____

Tá ið vit brenna hesi evni, fer koltvísúrni og svávul upp í luftina við roykinum.

Kemur roykurin saman við vatni, regnar hann niður aftur sum sýruregn.

1. Hvat hendir við trøum, sum fáa ov nógv súrt regn?

2. Hvat hendir við djóralívinum í vøtnum, har vatnið verður ov súrt?

3. Hvat evni ber til at brúka, at gera vatnið nevtralt aftur?

Mynd úr: "Náttúra og tøkni 3", Føroya Skúlabókagrunnur.

11.



Vit eru stödd í Prag í Kekkia (reyður blettur).
Í hvörja ætt skulu vit fara, um vit skulu til:

Svøríki _____

Turkaland _____

Eysturríki _____

Skotland _____

Litava _____

Spania _____

