

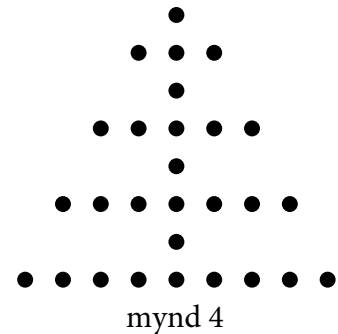
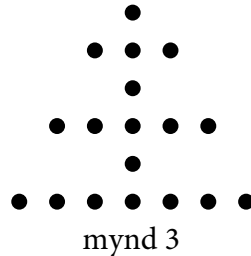
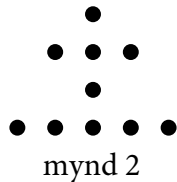

## Finala – 3. flokkur

Svarini verða skrivað á svarblaðið aftast

### Uppgáva 1

5 stig

Hugsa tær, at hetta mynstrið heldur fram. Hvussu nógvir prikkar eru í skapinum á mynd 10?



### Uppgáva 2

4 stig

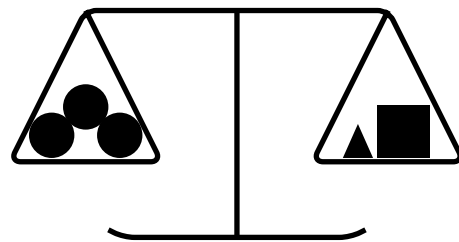
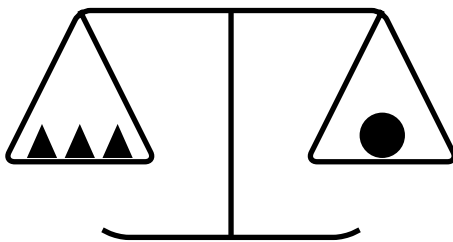
Hvussu ofta í eitt samdøgur vísir ein digital klokka tíðina við sifrunum 0, 2, 2 og 4?  
Dømi: 20:24

### Uppgáva 3

4 stig

Myndirnar vísa tvær skálvektir, sum javnviga. Myndin vinstrumegin vísir, at tríggir tríkantar

▲ viga júst tað sama sum ein sirkulskiva ●.

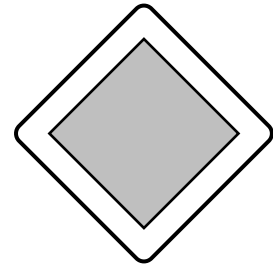



Hvussu nógvir tríkantar ▲ viga tað sama sum eitt kvadrat ■ ?

## Uppgáva 4

5 stig

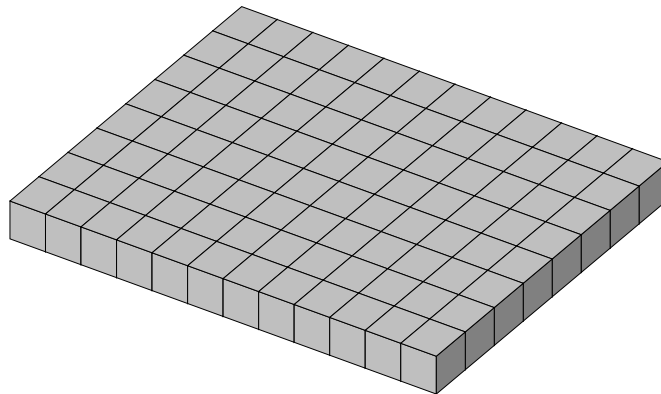
Hvussu nógvar speglingsásir hava hesi skeltini til samans?



## Uppgáva 5

5 stig

Mikkjal og Sveinur spæla við byggikubbar við kvadratiskum síðuflatum, sum allir eru líka stórir. Mikkjal hevur lagt ein flata, sum er tólv kubbar langur og átta kubbar breiður, sí myndina. Í flatanum eru 36 kantkubbar og 60 'innari kubbar'.



Sveinur leggur ein flata við 26 kantkubbum og 30 innari kubbum. Hvussu nógvar kubbar er hesin flatin langur og breiður?

## Svarblað: Finala 2025 - 3. flokkur

Navn: \_\_\_\_\_

**Uppgáa 1**

**Uppgáa 2**

**Uppgáa 3**

**Uppgáa 4**

**Uppgáa 5**