

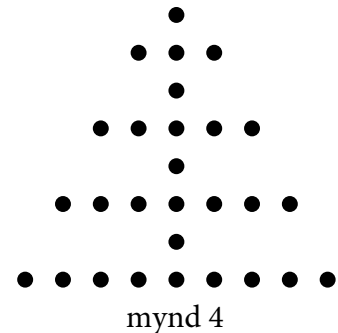
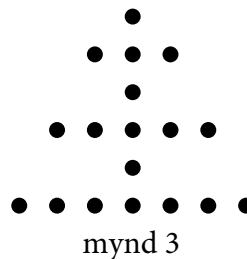
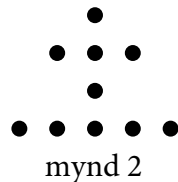

Finala – 4. flokkur

Svarini verða skrivað á svarblaðið aftast

Uppgáva 1

4 stig

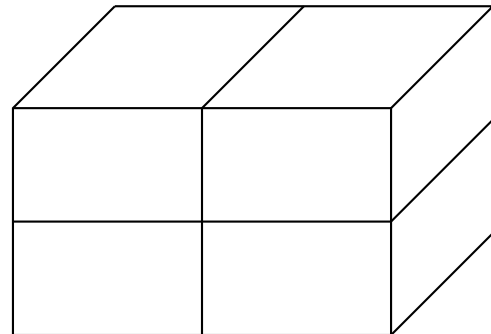
Hugsa tær, at hetta mynstrið heldur fram. Hvussu nógvir prikkar eru í skapinum á mynd 10?



Uppgáva 2

5 stig

Dávur hevur fýra eins rektangulerar kassar við kantlongdunum 3 cm, 4 cm og 5 cm. Úr øllum fýra kassum hevur hann gjørt ein størri kassa (sí myndina). Hvussu nógvir ymiskar møguleikar hevur hann at gera hetta (vísta dømið íroknað)?



Uppgáva 3

5 stig

Anna, Lisa, Maria og Lena práta um síni frítíðarítriv. Hvør genta tekur lut í júst einum av hesum ítrivum: svimjing, fimleiki, fekting og dansi.


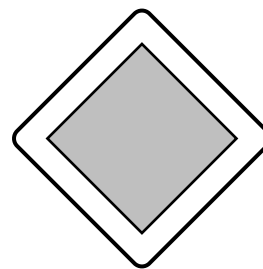

- Anna og fimleikarin hava kappingar komandi leygardag.
- Maria venur altíð mánadagar júst sum svimjarin ger.
- Tann, sum Lisa dansar saman við, er skaddur. Tí fara Lisa og Maria at hyggja at venjingini hjá fimleikarunum.

Hvat venur hvør av hesum gentunum?

Uppgáva 4

4 stig

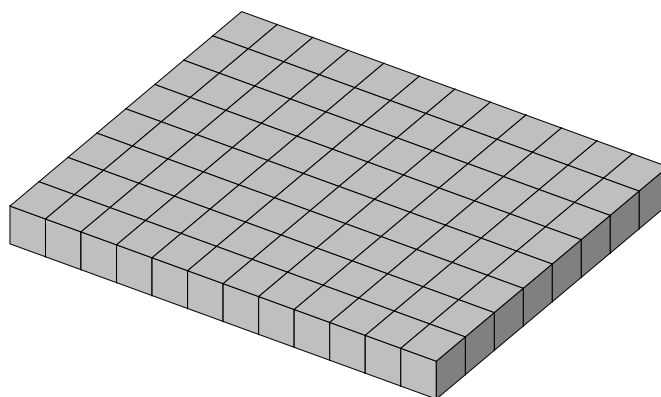
Hvussu nógvar speglingsásir hava hesi skeltini til samans?



Uppgáva 5

4 stig

Mikkjal og Sveinur spæla við byggikubbar við kvadratiskum síðuflatum, sum allir eru líka stórir. Mikkjal hevur lagt ein flata, sum er tólv kubbar langur og átta kubbar breiður, sí myndina. Í flatanum eru 36 kantkubbar og 60 'innari kubbar'.



Sveinur leggur ein flata við 26 kantkubbum og 30 innari kubbum. Hvussu nógvar kubbar er hesin flatin langur og breiður?

Svarblað: Finala 2025 - 4. flokkur

Navn: _____

Uppgáa 1

Uppgáa 2

Uppgáa 3

Uppgáa 4

Uppgáa 5